

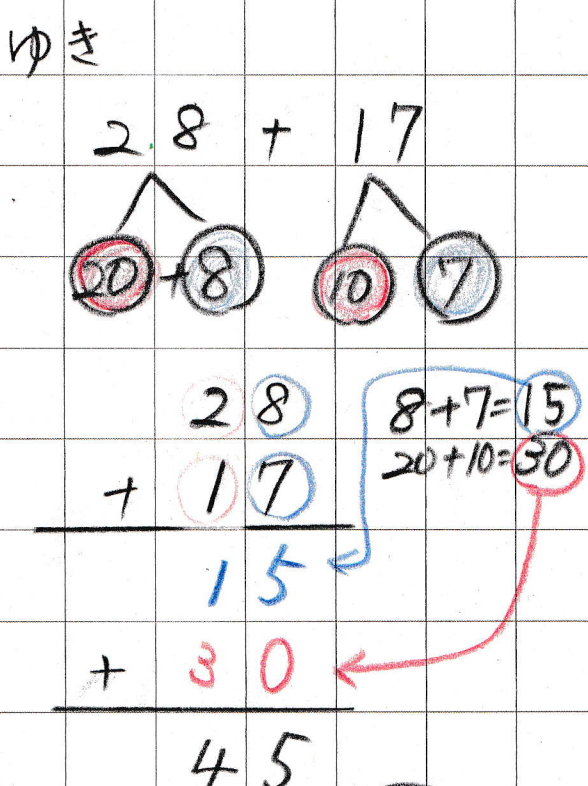
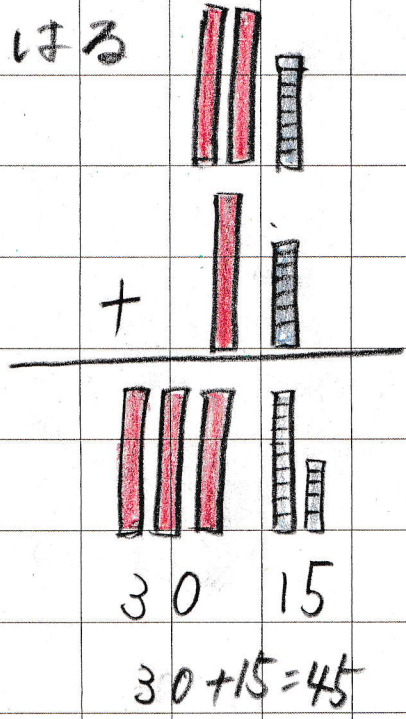
5/14 プリント④ P27

5月14日(木)

③ 28円 のカステラと 17円 のグミを1つずつ買います。あわせて何円になるでしょうか。

式 $28 + 17$

$$\begin{array}{r} 28 \\ + 17 \\ \hline \end{array}$$



一の位の計算が10より大きくなるから
今までとちがうし。むずかしいのじゃ

$$\begin{array}{r} 28 \\ + 17 \\ \hline 45 \end{array}$$

5/15 フォリット⑤ くり上りのある計算

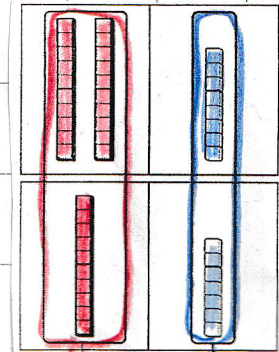
5月15日 (金)

28 + 17 の ひょうさんのしかた

十のくり 一のくり

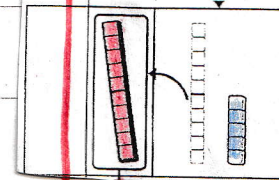
$$\begin{array}{r} 28 \\ + 17 \\ \hline \end{array}$$

① 位をそろえて書く



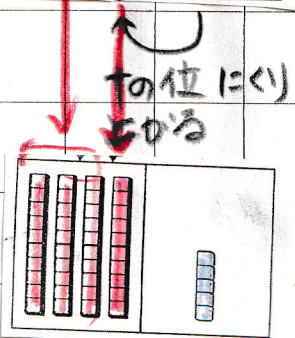
$$\begin{array}{r} 28 \\ + 17 \\ \hline \end{array}$$

② 一の位 $8 + 7 = 15$
十の位に1くり上げる
一の位は5だけ



$$\begin{array}{r} 28 \\ + 17 \\ \hline 45 \end{array}$$

③ 十の位 $1 + 2 + 1 = 4$



④

$$\begin{array}{r} 39 \\ + 18 \\ \hline 57 \end{array}$$