

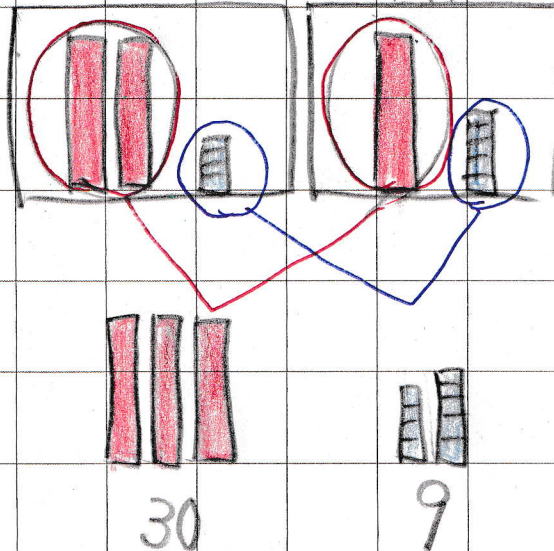
5/8 フリット①算数

5月8日(金)

① 24円 のドーナツと 15円 の
ラムネを1つずつ買いま
す。 あわせて 何円になる
でしょうか。 たし算のキーワード

式 $24 + 15$

じぶんの おんがえ かけたかな？



こは ども
ずども いは
かけたら すごい!!

10 の たばか 3つで 30

ばらが ぜんぶで 9


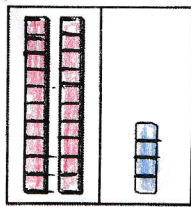
たから 39

5/8 p24

5月8日(金)

<みなと>

ブロックでかんがえているよ

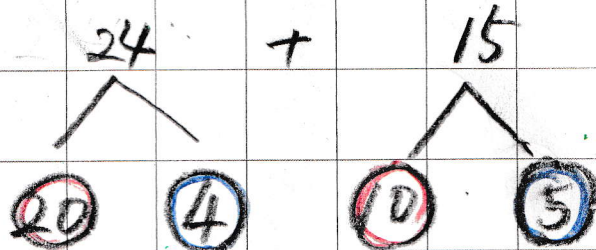


かんがえて 3 :

かんがえて 9 :

<ゆき>

さくらんぼにしているね



$$\textcircled{20} + \textcircled{10} = \text{30}$$

$$24 + 15 = \text{39}$$

$$\textcircled{4} + \textcircled{5} = \text{9}$$

$$\text{あわせて } \text{39}$$

$$\text{答え } \text{39円}$$

十の位どうしをたすと、 $\text{2} + \text{1} = \text{3}$

一の位どうしをたすと、 $\text{4} + \text{5} = \text{9}$

十の位の3は、10が3こで 30 っていうみだから、
24 + 15 の答えは、30 と 9 をあわせて39。

かくしゅうのふりかえり あ

位をわけてかんがえると、かんたんに行きそうだなあ。