


時と時間 (名前 **こたえ**) 表とグラフ 23日(木)さんぽ1


① なん時なん分 でしょうか。

①




8じ

②




7じ12ふん

③




1じ55ふん

④




4じ

⑤




11じ30ふん

⑥



4じ48ふん

① それぞれ なんこ あるでしょうか。



ガム

(5)

(7)

② やさいの ^{かず} 数を見やすく せりしましょう。

① やさいの数だけ いろをぬりましょう。



7	2	4	6

② ーばんおおいやさいは、なんですか。

トマト

24日(金)

コ コ ア のもんだいのこたえは

$$1 + 1 + 13 = 15 \quad \text{コは1} \quad \text{アは13} \quad \times$$

つかっていいすう字は 1 から 9 までだから

$$2 + 2 + 11 = 15 \quad \text{コは2} \quad \text{アは11} \quad \times$$

つかっていいすう字が 1 から 9 までだから

$$3 + 3 + 9 = 15 \quad \text{コは3} \quad \text{アは9} \quad \bigcirc$$

$$4 + 4 + 7 = 15 \quad \text{コは4} \quad \text{アは7} \quad \bigcirc$$

$$5 + 5 + 5 = 15 \quad \text{コは5} \quad \text{アは5} \quad \times$$

もじ かず もじ かず
おなじ文字には同じ 数 ちがう文字にはちがう 数 というやくそくだから

ほかに^{こた}えは, コは6 アは3, コは7 アは1

$$\text{ル} + \text{ル} + \text{ル} = 12 \text{ の答えは } \underline{\text{ルは4}} \quad \text{ラ} + \text{ラ} + \text{ラ} + \text{ラ} = 12 \quad \underline{\text{ラは3}}$$

$$\text{ト} + \text{マ} + \text{ト} = 18 \text{ の答えは } \underline{\text{トが5, マが8}} \quad \underline{\text{トが7, マが4}} \quad \underline{\text{トが8, マが2}}$$

ほかにも, もんだいをじぶんでかんがえられるよ。ヒント おなじ文字がある言葉でできるよ

先生からのもんだい

$$\text{し} + \text{ん} + \text{ぶ} + \text{ん} + \text{し} = 13 \quad \text{やってみよう。}$$

こたえ

$$1 + 2 + 7 + 2 + 1 = 13$$

し1, ん2, ぶ7

$$2 + 1 + 7 + 1 + 2 = 13$$

し2, ん1, ぶ7